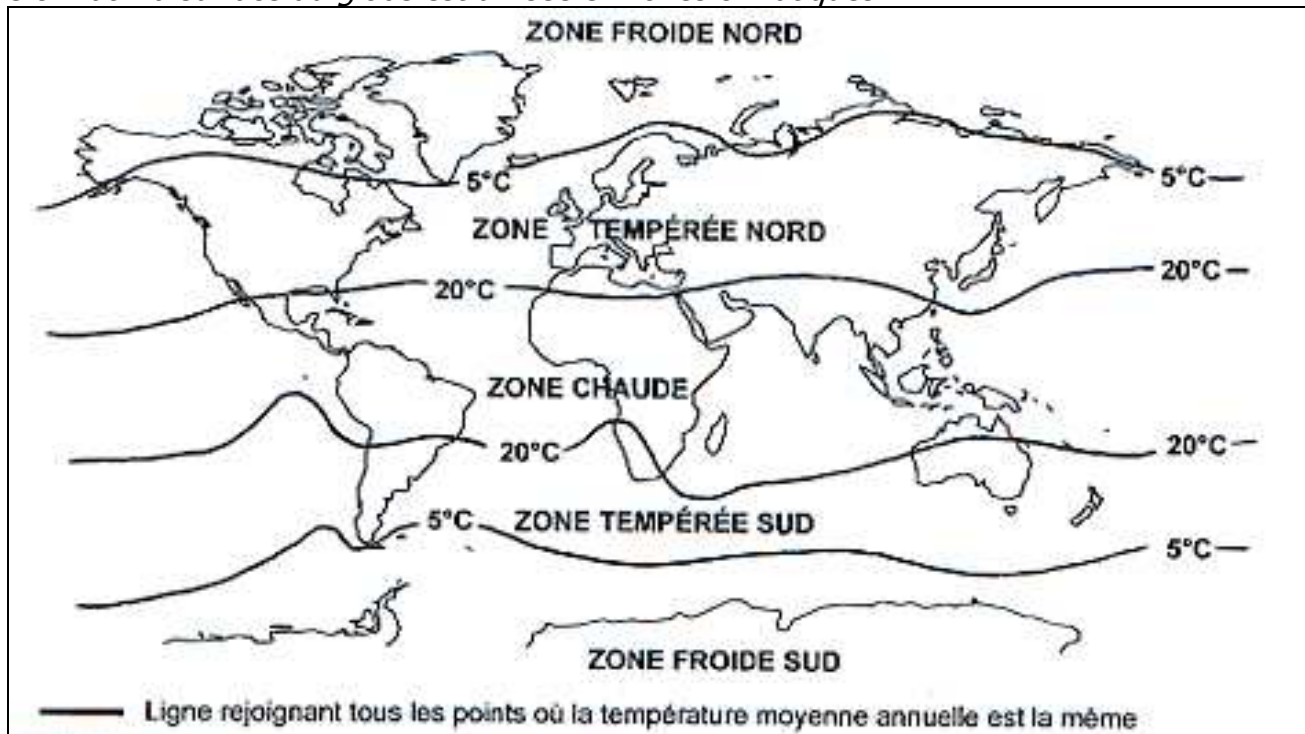


LE CLIMAT – LES ZONES CLIMATIQUES DU GLOBE

Les précipitations (pluie, neige...) et les températures (en degrés Celsius : °C) déterminent le climat. La surface du globe est divisée en zones climatiques.



1 – Colorie la zone chaude en rouge, les zones tempérées en jaune et les zones froides en vert.

2 – Dans quelle zone se trouve notre pays?
Colorie-le en noir.

3 – Relie :

- | | |
|---------------------------------|---------------------------|
| les pluies sont abondantes ● | ● la zone est dite sèche |
| les pluies sont rares ● | ● la zone est dite humide |
| les températures sont élevées ● | ● la zone est dite froide |
| les températures sont basses ● | ● la zone est dite chaude |

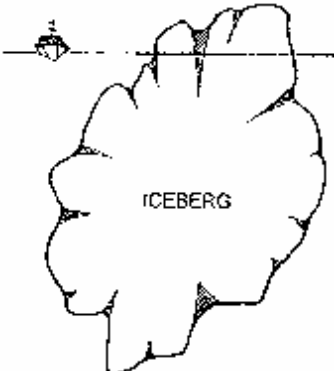






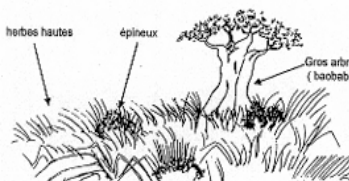

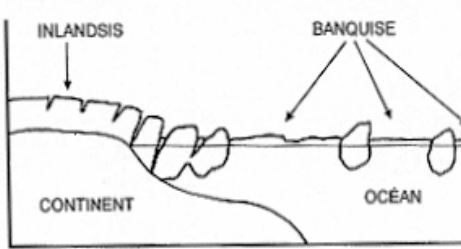
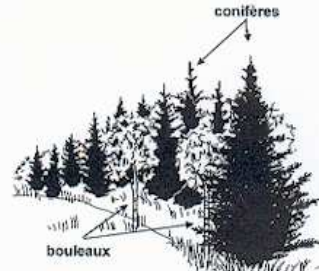
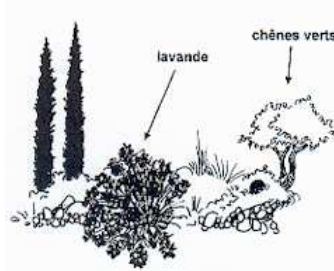
4 – Dans quelle zone climatique se trouve les régions suivantes? Écris-les sur la carte.

- | | |
|-------------------------|---------------------------|
| ● Afrique : | ● Australie : |
| ● Europe : | ● Antarctique : |
| ● Pôle Nord : | ● Pôle sud : |

5 – Où les trouve t-on? Relie: ... se trouve dans la ...

- | | |
|---------------------------|-----------------|
| le milieu polaire ● | ● zone froide |
| le milieu équatorial ● | ● zone tempérée |
| le milieu tropical ● | ● zone chaude |
| le milieu océanique ● | |
| le milieu continental ● | |
| le milieu méditerranéen ● | |
| le milieu désertique ● | |

Colorie, découpe et classe les images dans le tableau suivant :

Zone froide	Zone tempérée	Zone chaude
 <p>ICEBERG</p>	 <p>gorille</p>	 <p>cerf</p>
 <p>FORÊT DENSE</p>	 <p>OÛRS BLANC</p>	 <p>sanglier</p>
 <p>lion</p>	 <p>SAVANE</p>	 <p>PHOQUES</p>
	 <p>LA FORÊT BORÉALE</p>	 <p>LA GARRIGUE</p>

Cherche dans ton dictionnaire :

iceberg :

inlandsis :

savane :

forêt boréale :

garrigue :

banquise :

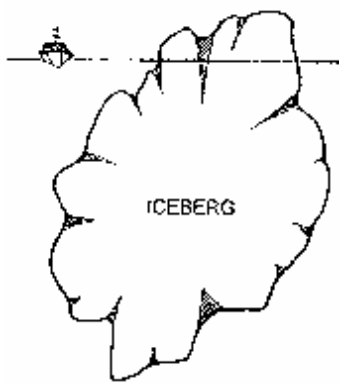
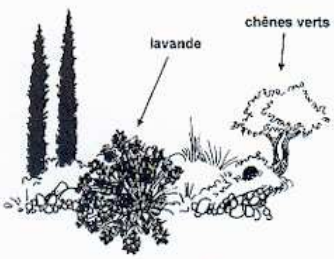

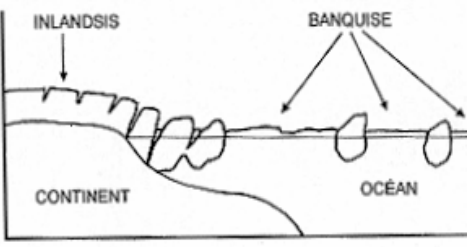
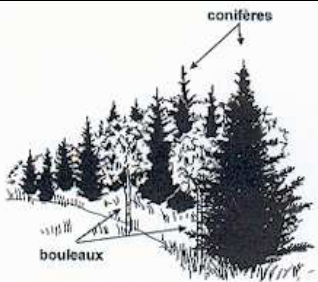
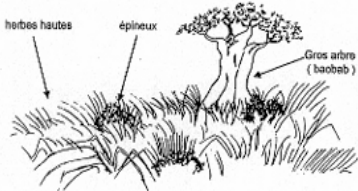






ZONE FROIDE : près des pôles le climat est très froid, c'est le climat polaire. La température peut descendre à -90°C . Les vents sont violents et glacés.

ZONE TEMPÉRÉE : le climat n'est ni très froid, ni très chaud. Il existe 4 saisons (printemps, été, automne, hiver). Ce climat se trouve à la fois dans l'hémisphère nord et dans l'hémisphère sud.

ZONE CHAUDE : de chaque côté de l'équateur, on rencontre un climat avec des températures élevées et des précipitations abondantes toute l'année : c'est le climat équatorial.

En revanche, près des tropiques (cancer ou capricorne), l'année est marquée par une saison sèche, puis une saison des pluies : c'est le climat tropical.

CORRECTION

Zone froide	Zone tempérée	Zone chaude
 <p style="text-align: center;">ICEBERG</p>	 <p style="text-align: center;">LA GARRIGUE</p>	 <p style="text-align: center;">FORÊT DENSE</p>
 <p style="text-align: center;">INLANDSIS BANQUISE</p> <p style="text-align: center;">CONTINENT OCÉAN</p>	 <p style="text-align: center;">conifères</p> <p style="text-align: center;">bouleaux</p> <p style="text-align: center;">LA FORÊT BORÉALE</p>	 <p style="text-align: center;">SAVANE</p> <p style="text-align: center;">herbes hautes épineux Gros arbre (baobab)</p>
 <p style="text-align: center;">OURS BLANC</p>	 <p style="text-align: center;">cerf</p>	 <p style="text-align: center;">gorille</p>
 <p style="text-align: center;">PHOQUES</p>	 <p style="text-align: center;">sanglier</p>	 <p style="text-align: center;">lion</p>

iceberg : *masse de glace flottante détachée de la banquise ou d'un glacier polaire.*
 inlandsis : *glacier des régions polaires qui recouvre la totalité d'un continent ou une étendue terrestre d'une façon permanente.*
 savane :
 forêt boréale :
 garrigue : *lande, terre inculte couverte de taillis et de chênes verts.*
 banquise : *amas de glace résultant de la congélation directe de l'eau de mer.*