

LES NOUVELLES RÉGIONS

1 - Retrouve ces régions en reliant :

- Normandie •
- Centre-Val de Loire •
- Bretagne •
- Corse •
- Ile de France •
- Nouvelle-Aquitaine •
- Grand Est •
- Hauts de France •
- Occitanie •
- Pays de la Loire •
- Auvergne-Rhône-Alpes •
- Bourgogne-Franche-Comté •
- Provence-Alpes-Côte d'azur •



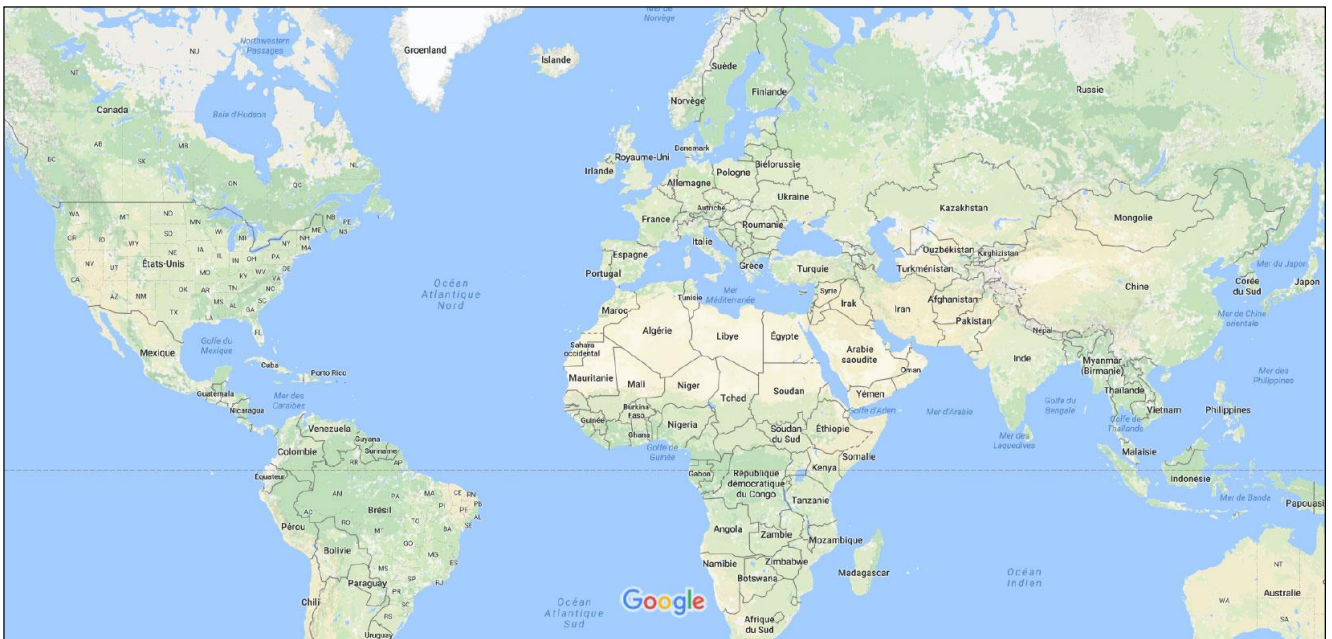
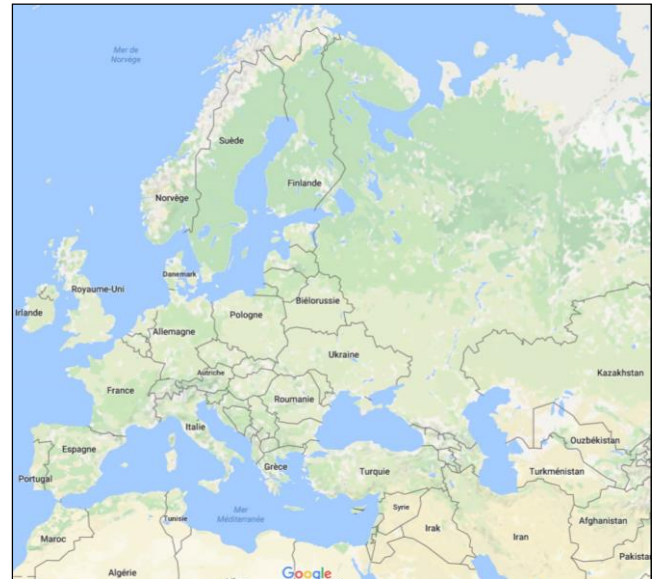
2 – Tu relies chaque région à sa préfecture de région :

- | | |
|------------------------------|--------------|
| Centre-Val de Loire • | • Ajaccio |
| Nouvelle Aquitaine • | • Strasbourg |
| Corse • | • Orléans |
| Grand Est • | • Bordeaux |
| Bretagne • | • Lille |
| Ile de France • | • Paris |
| Hauts-de-France • | • Rennes |
| Occitanie • | • Nantes |
| Auvergne-Rhône-Alpes • | • Marseille |
| Bourgogne-Franche-Comté • | • Rouen |
| Provence-Alpes-Côte d'azur • | • Toulouse |
| Pays de la Loire • | • Dijon |
| Normandie • | • Lyon |

Prénom : _____

Evaluation :

3 – Situe (marque avec une croix) la région où tu habites sur les différentes cartes.



4 – Quels départements comprend la région où tu habites ?

.....

.....

.....

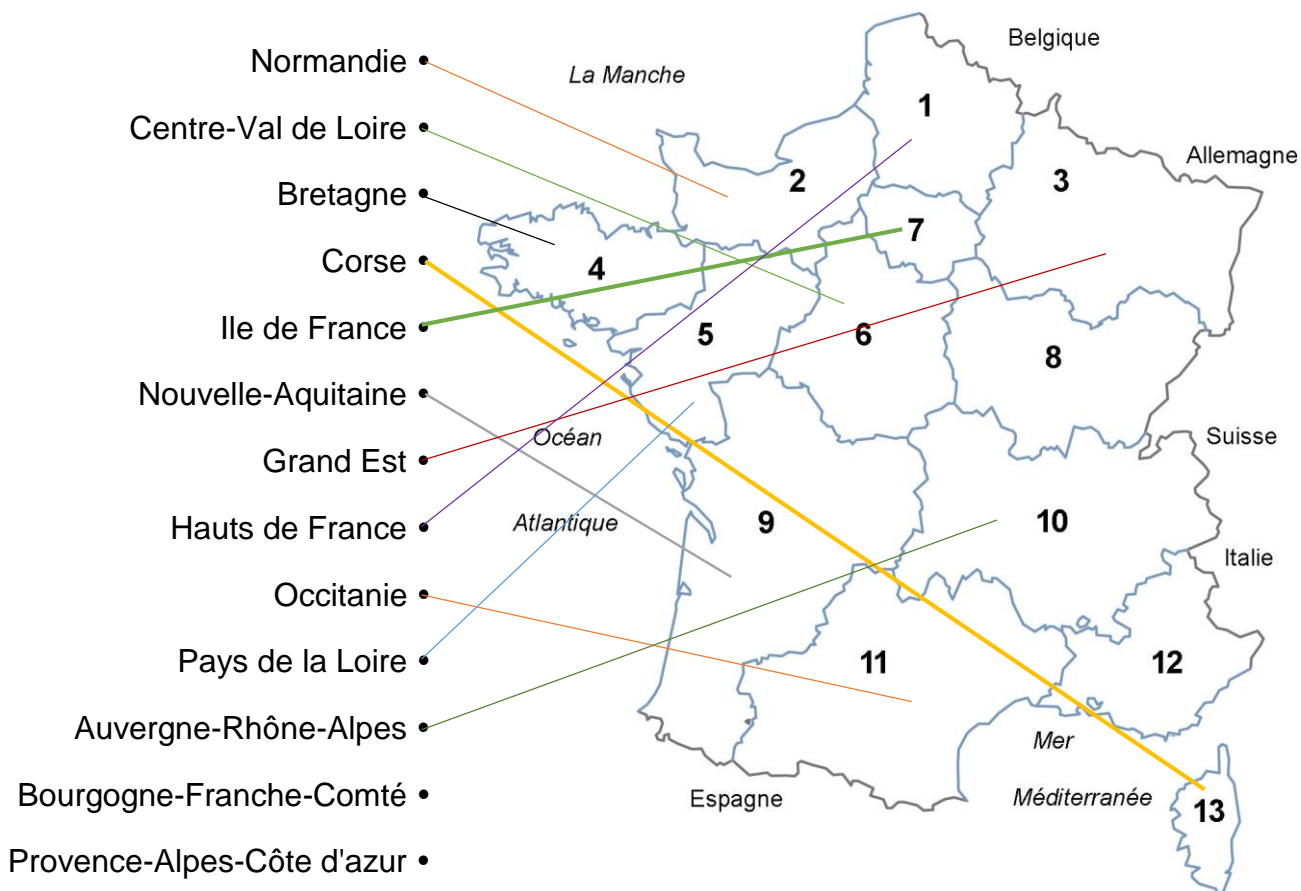
5 – Ta région est-elle une région urbaine ou rurale ? Pourquoi ?

.....

.....

CORRECTION

1 - Retrouve ces régions en reliant :



2 – Tu relies chaque région à sa préfecture de région :

