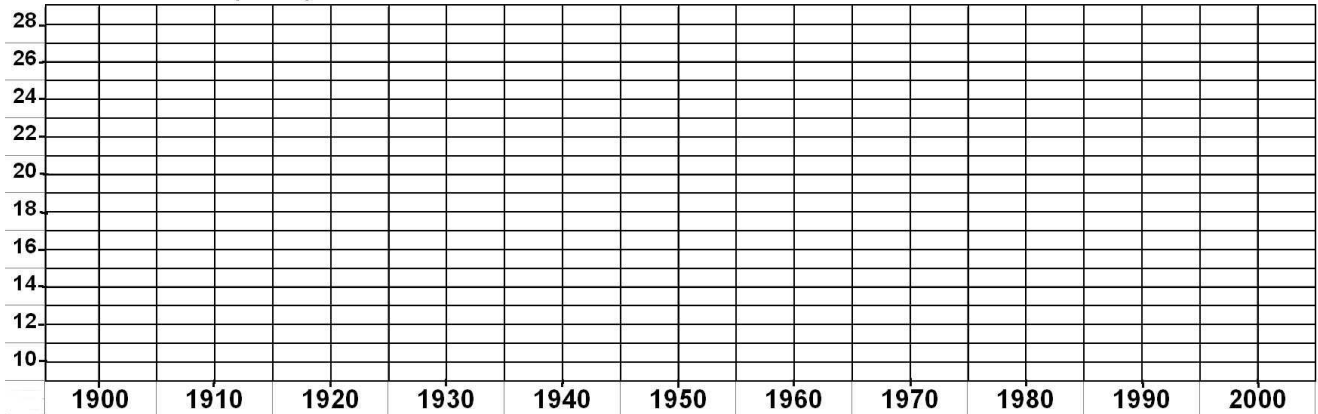


LA POPULATION

1 - Construis la courbe des variations des décès de 1900 à 2000 d'après le tableau :

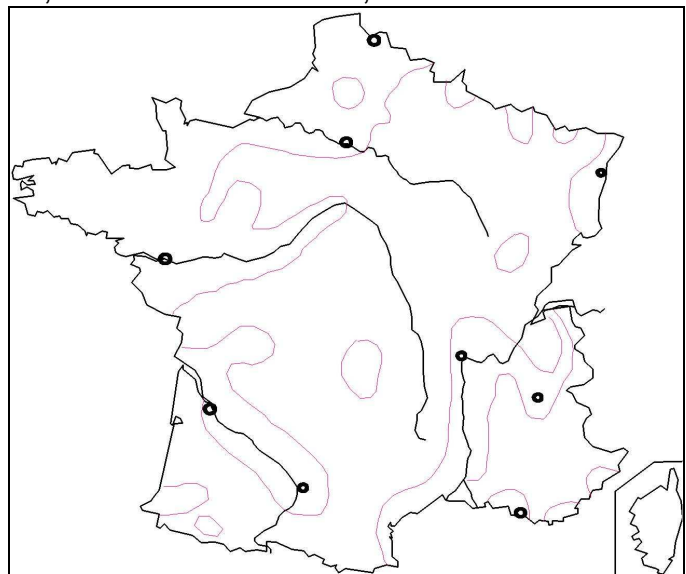
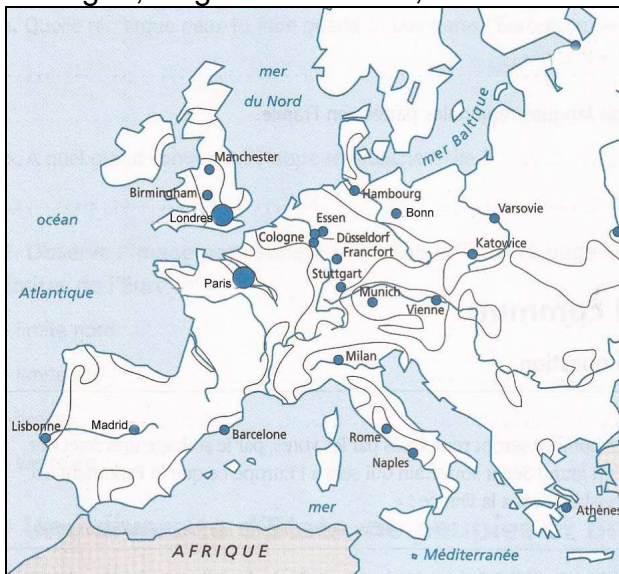
1900	1910	1920	1930	1940	1950	1960	1970	1980	1990	2000
21	20	28	18	23	14	13	13	12	12	11 *

* La mortalité est indiquée pour 1000 habitants.



2 - À quoi correspondent les deux "pics" observés sur le graphique ?

3 - Sur les cartes, colorie en jaune les zones les plus peuplées et place sur la carte de France :
 Bretagne, Région Parisienne, Vallée de la Loire, Vallée de la Garonne, Vallée du Rhône.



4 - Dessine les frontières de la France en rouge.

5 - Écris les villes suivantes sur la carte de France : Paris - Lyon - Bordeaux - Lille - Nantes - Marseille - Strasbourg.

6 - La population française est-elle jeune ou vieillissante ?

7 - Donne la définition des termes suivants :

mortalité :

natalité :

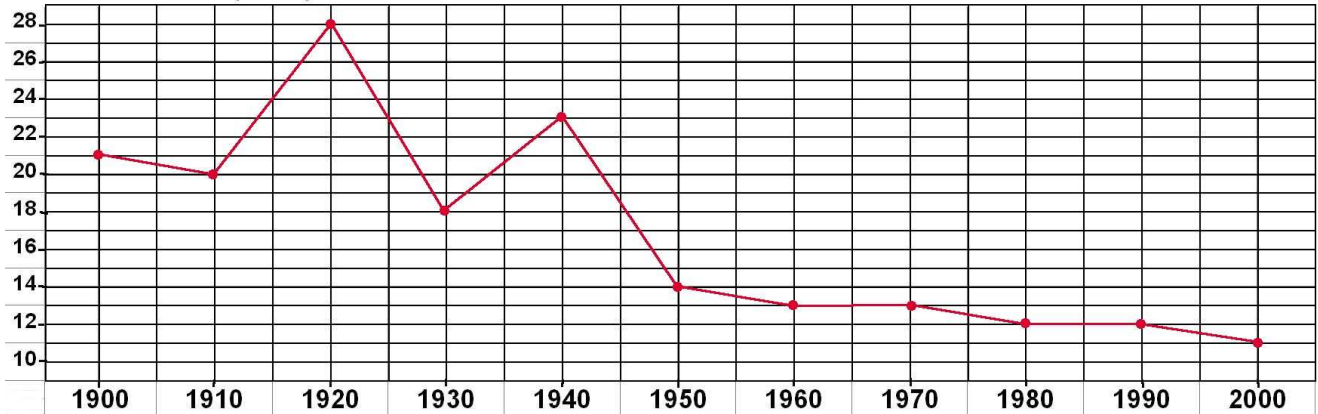
densité de population :

LA POPULATION

1 - Construis la courbe des variations des décès de 1900 à 2000 d'après le tableau :

1900	1910	1920	1930	1940	1950	1960	1970	1980	1990	2000
21	20	28	18	23	14	13	13	12	12	11 *

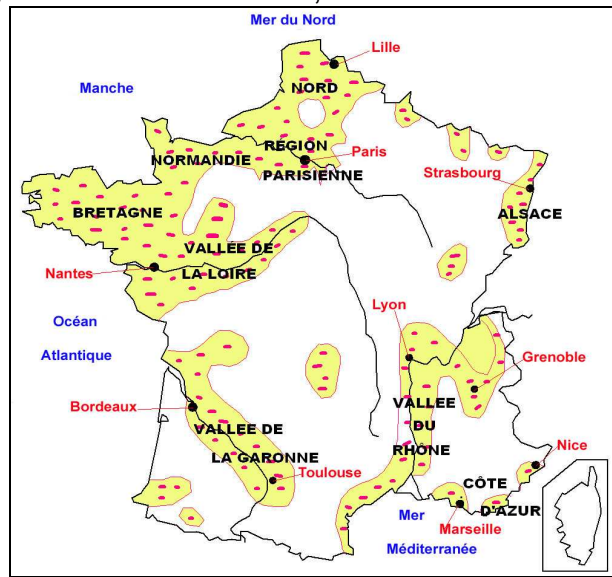
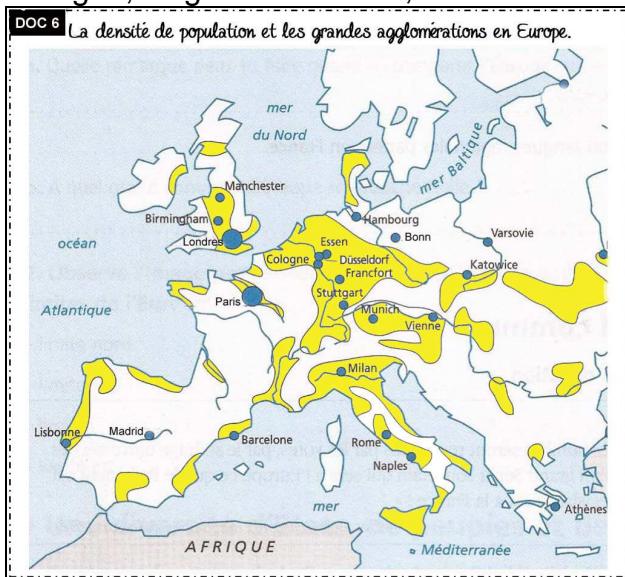
* La mortalité est indiquée pour 1000 habitants.



2 - À quoi correspondent les deux "pics" observés sur le graphique ? **à des périodes de guerre**

3 - Sur les cartes, colorie en jaune les zones les plus peuplées et place sur la carte de France :

Bretagne, Région Parisienne, Vallée de la Loire, Vallée de la Garonne, Vallée du Rhône.



4 - Dessine les frontières de la France en rouge.

5 - Écris les villes suivantes sur la carte de France : Paris - Lyon - Bordeaux - Lille - Nantes - Marseille - Strasbourg.

6 - La population française est-elle jeune ou vieillissante ? **vieillissante**

7 - Donne la définition des termes suivants :

mortalité : **nombre de morts par an pour 1 000 habitants**

natalité : **nombre de naissances par an pour 1 000 habitants**

densité de population : **nombre d'habitants par km²**