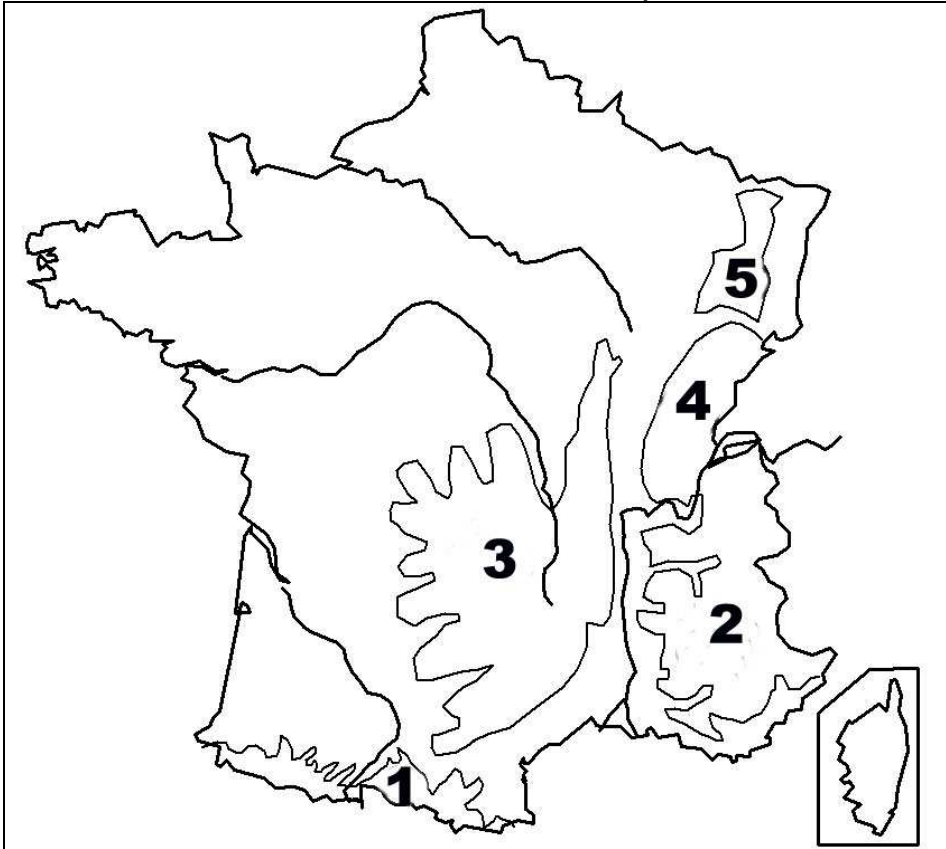


LE RELIEF : LES MONTAGNES

1 - Situe les massifs de la carte : Complète le tableau.



	Massif Central
	Alpes
	Pyrénées
	Vosges
	Jura

2 - Colorie les massifs anciens en marron et les massifs plus récents en jaune.

3 - Tu relies comme il convient:

- | | | |
|------------------|--------------------------|-----------|
| Pyrénées • | • Crêt de la Neige • | • 3 404 m |
| Alpes • | • Pic d'Aneto • | • 1 723 m |
| Jura • | • Mont Blanc • | • 1 426 m |
| Massif Central • | • Ballon de Guebwiller • | • 4 810 m |
| Vosges • | • Puy de Sancy • | • 1 889 m |

4 - Tu complètes avec **sud-est** et **nord-ouest**:

- La France des montagnes se trouve au
- La France des plaines se trouve au

5 - Cite un autre petit massif Français :

6 – Écris la définition :

montagne :

.

puy :

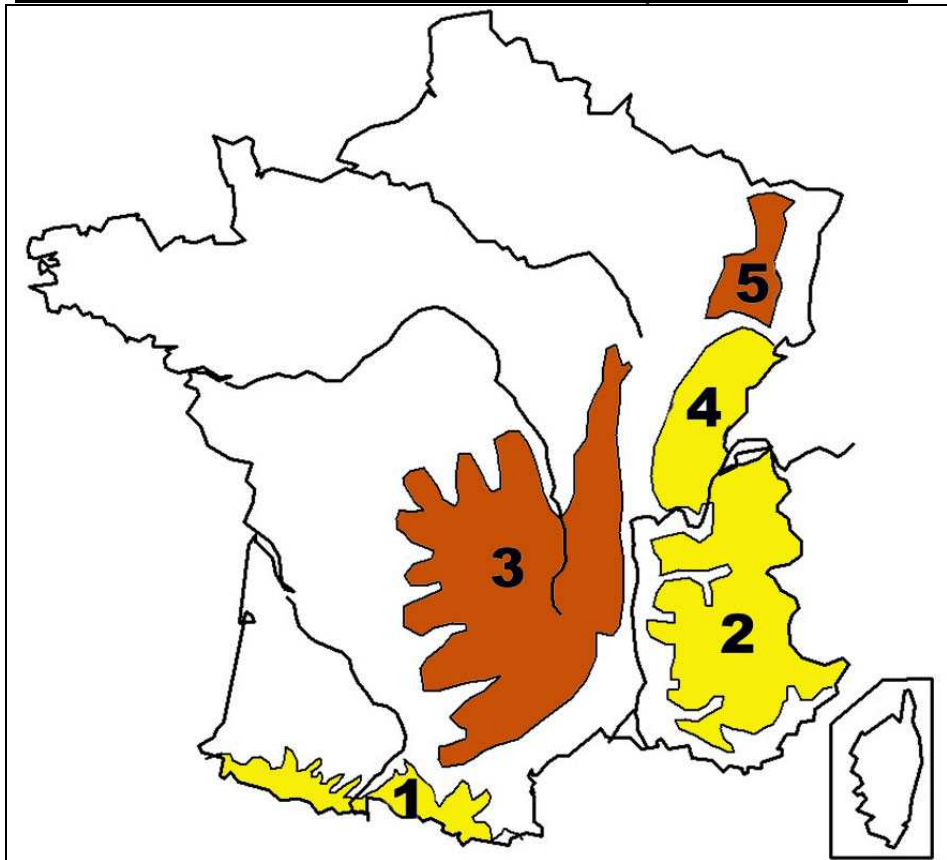
.

Prénom : _____

Réussite : ... %

LE RELIEF : LES MONTAGNES

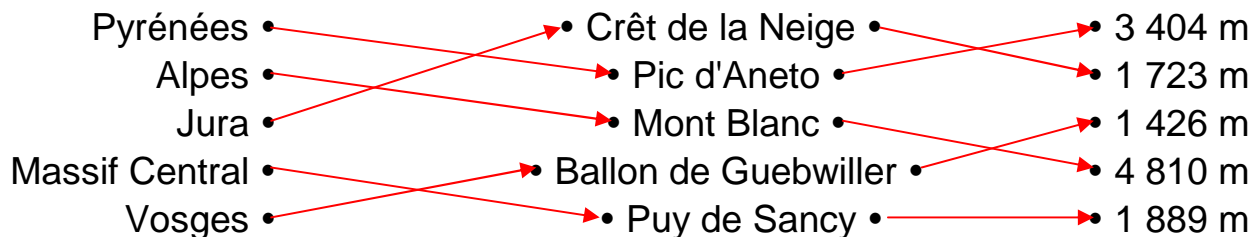
1 - Situe les massifs de la carte : Complète le tableau.



3	Massif Central
2	Alpes
1	Pyrénées
5	Vosges
4	Jura

2 - Colorie les massifs anciens en marron et les massifs plus récents en jaune.

3 - Tu relies comme il convient:



4 - Tu complètes avec **sud-est** et **nord-ouest**:

- La France des montagnes se trouve au **sud-est**
- La France des plaines se trouve au **nord-ouest**

5 - Cite un autre petit massif Français : **Ardenne, Esterel, Maures, Massif Armoricain, Morvan**

6 – Écris la définition :

montagne : **Élévation du sol naturelle et très importante caractérisée par une dénivellation importante entre le sommet et le pied.**

puy : **Sommet de montagne d'origine volcanique.**