



↳ Compétence 3 : Je sais tracer des polygones simples avec des instruments.

↳ Consigne 3 : Trace un carré, un rectangle, un losange, un triangle rectangle, un triangle isocèle et un triangle équilatéral avec les outils nécessaires.

↳ Compétence 4 : Je sais décrire des polygones simples.

↳ Consigne 4 : Complète le tableau ci-dessous avec oui si c'est vrai.

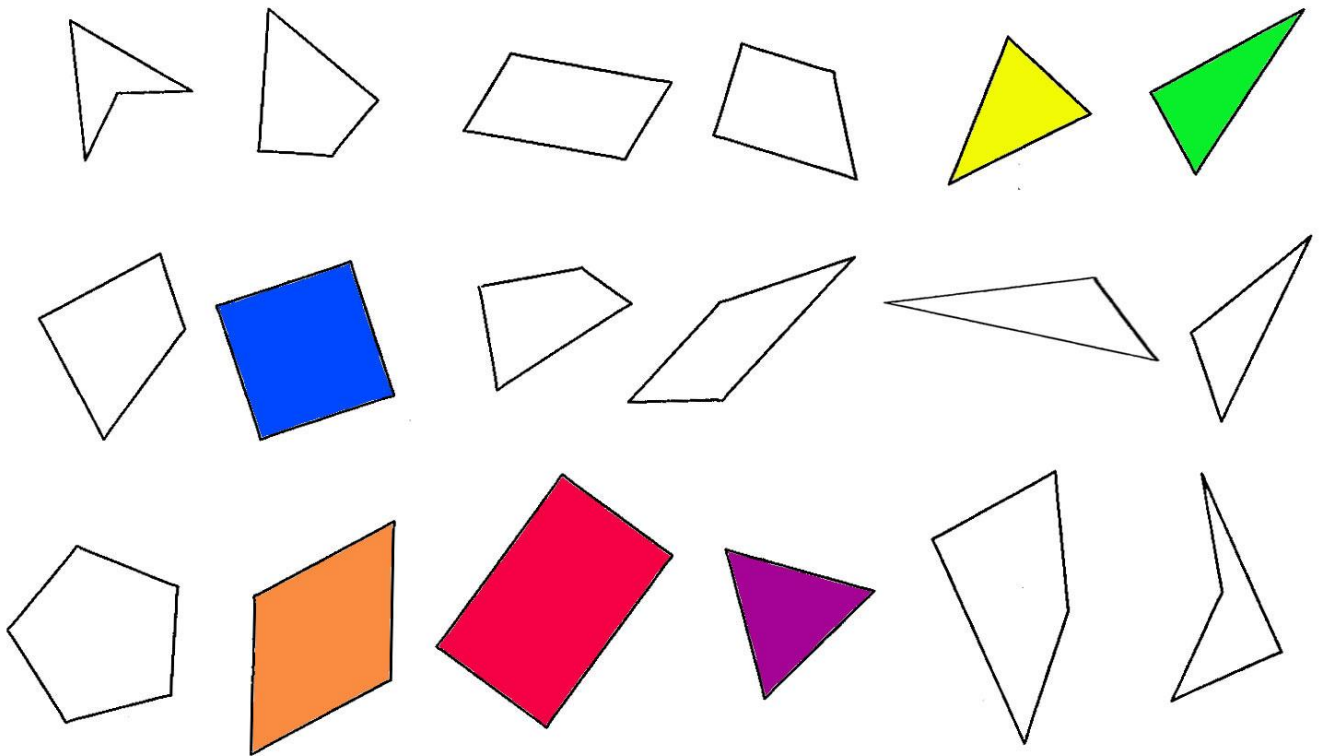
figures	2 côtés opposés de même longueur	2 côtés de même longueur	3 côtés de même longueur	4 côtés de même longueur	au moins un angle droit	4 angles droits
<i>carré</i>						
<i>rectangle</i>						
<i>losange</i>						
<i>triangle rectangle</i>						
<i>triangle isocèle</i>						
<i>triangle équilatéral</i>						

## ESPACE ET GÉOMÉTRIE : les polygones

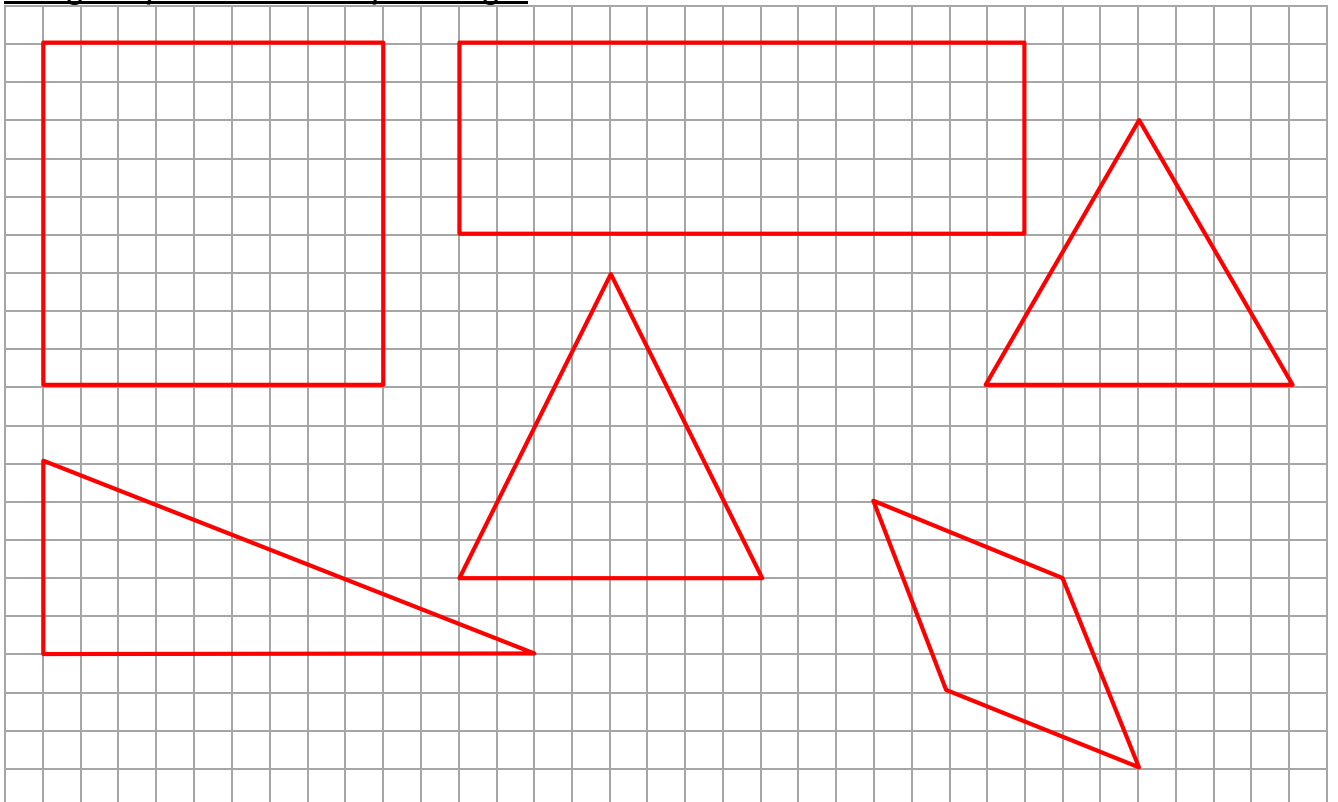
	NA	PA	A	D
❶ Je sais reconnaître des polygones simples.				
❷ Je sais tracer quelques polygones sur un quadrillage.				
❸ Je sais tracer des polygones simples avec des instruments.				
❹ Je sais décrire des polygones simples.				

## CORRECTION

- ↳ Compétence 1 : Je sais reconnaître des polygones simples.
- ↳ Consigne 1 : Colorie le carré en bleu, le rectangle en rouge et le triangle rectangle en vert


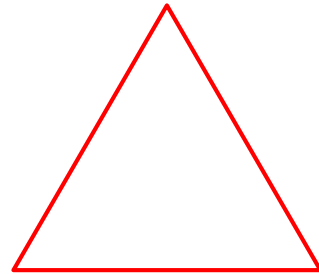

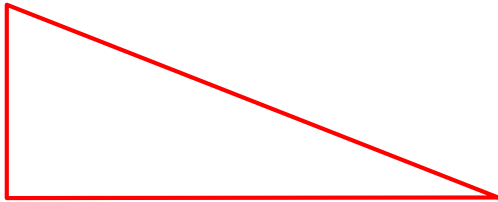
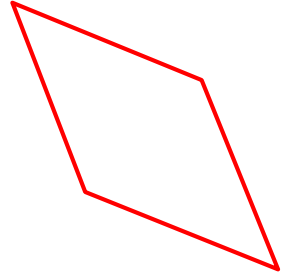



- ↳ Compétence 3 : Je sais tracer quelques polygones simples sur un quadrillage.
- ↳ Consigne 3 : Trace un carré, un rectangle, un triangle rectangle, un triangle isocèle et un triangle équilatéral sur le quadrillage.



↳ Compétence 4 : Je sais tracer des polygones simples avec des instruments.

↳ Consigne 4 : Trace un carré, un rectangle, un losange, un triangle rectangle, un triangle isocèle et un triangle équilatéral avec les outils nécessaires.



↳ Compétence 4 : Je sais décrire des polygones simples.

↳ Consigne 4 : Complète le tableau ci-dessous avec oui si c'est vrai.

figures	2 côtés opposés de même longueur	2 côtés de même longueur	3 côtés de même longueur	4 côtés de même longueur	au moins un angle droit	4 angles droits
<i>carré</i>	oui			oui	oui	oui
<i>rectangle</i>	oui				oui	oui
<i>losange</i>	oui			oui		
<i>triangle rectangle</i>					oui	
<i>triangle isocèle</i>		oui				
<i>triangle équilatéral</i>			oui			