



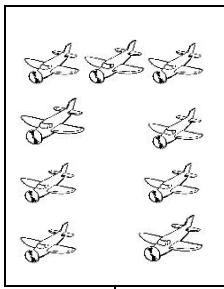
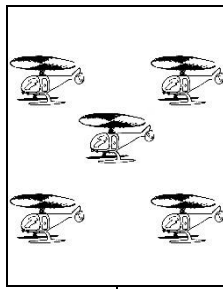
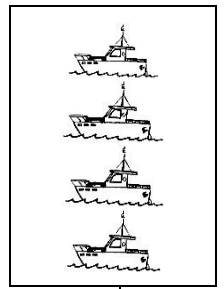
LES NOMBRES ENTIERS DE 0 À 9

↳ Compétences : Connaître et comparer les nombres de 0 à 9.

① Écris les nombres suivants en chiffres.

cinq	six	quatre	zéro	un
deux	trois	huit	sept	neuf

② Complète le tableau pour écrire le nombre d'objets.

				
<input type="text"/>	<input type="text"/>	<input type="text"/>	<input type="text"/>	<input type="text"/>

③ Colorie les étiquettes du nombre .

$2 + 1$	$2 + 2$	$3 + 0$	$1 + 1$	$1 + 2$	$3 + 3$	$0 + 3$	$1 + 3$
---------	---------	---------	---------	---------	---------	---------	---------

Colorie les étiquettes du nombre .

$5 + 1$	$4 + 1$	$5 + 0$	$1 + 3$	$1 + 2$	$2 + 3$	$3 + 2$	$1 + 3$
---------	---------	---------	---------	---------	---------	---------	---------

Colorie les étiquettes du nombre .

$6 + 1$	$5 + 2$	$5 + 0$	$1 + 7$	$6 + 2$	$2 + 3$	$4 + 3$	$0 + 7$
---------	---------	---------	---------	---------	---------	---------	---------

Colorie les étiquettes du nombre .

$5 + 5$	$5 + 4$	$4 + 4$	$3 + 6$	$5 + 2$	$7 + 2$	$7 + 3$	$8 + 1$
---------	---------	---------	---------	---------	---------	---------	---------

④ Complète la suite numérique.

<input type="text" value="0"/>	<input type="text" value="1"/>	<input type="text"/>	<input type="text"/>	<input type="text"/>	<input type="text"/>	<input type="text" value="6"/>	<input type="text"/>	<input type="text" value="8"/>	<input type="text"/>
--------------------------------	--------------------------------	----------------------	----------------------	----------------------	----------------------	--------------------------------	----------------------	--------------------------------	----------------------

⑤ Écris le signe qui convient (= ou ≠)

$3 \square 2$	$2 \square 2$	$6 \square 9$	$9 \square 9$
$1 \square 1$	$0 \square 7$	$0 \square 0$	$7 \square 5$

↳ Prénom :

↳ Date :

NOMBRES ET CALCULS : les nombres entiers de 0 à 9

	NA	PA	A	D
① Je connais et je sais comparer les nombres entiers de 0 à 9.				



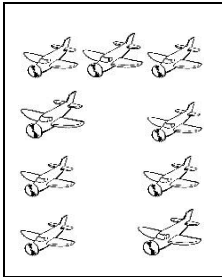
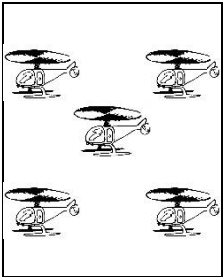

CORRECTION

↳ Compétences : Connaître et comparer les nombres de 0 à 9.

① Écris les nombres suivants en chiffres.

cinq	5	six	6	quatre	4	zéro	0	un	1
deux	2	trois	3	huit	8	sept	7	neuf	9

② Complète le tableau pour écrire le nombre d'objets.

				
3	0	9	5	4

③ Colorie les étiquettes du nombre 3.

2 + 1
2 + 2
3 + 0
1 + 1
1 + 2
3 + 3
0 + 3
1 + 3

Colorie les étiquettes du nombre 5.

5 + 1
4 + 1
5 + 0
1 + 3
1 + 2
2 + 3
3 + 2
1 + 3

Colorie les étiquettes du nombre 7.

6 + 1
5 + 2
5 + 0
1 + 7
6 + 2
2 + 3
4 + 3
0 + 7

Colorie les étiquettes du nombre 9.

5 + 5
5 + 4
4 + 4
3 + 6
5 + 2
7 + 2
7 + 3
8 + 1

④ Complète la suite numérique.

0
1
2
3
4
5
6
7
8
9

⑤ Écris le signe qui convient (= ou ≠)

3 ≠ 2 2 = 2 6 ≠ 9 9 = 9
 1 = 1 0 ≠ 7 0 = 0 7 ≠ 5