

LES MESURES DE DURÉES (2)

❶ *Entoure la durée qui convient.*

- La récréation dure : 15 minutes – 45 secondes – 3 heures
- La séance de piscine dure : 60 secondes – 40 minutes – 2 heures
- Pour écrire la date, il faut : 45 minutes – 30 secondes

❷ *Continue les suites.*





▫ Ajoute 10 min :

9 h 35 min	9 h 45 min					
------------	------------	--	--	--	--	--

▫ Ajoute 30 min :

11h	11h 30min					
-----	-----------	--	--	--	--	--

❸ *Combien de temps s'est écoulé entre les deux instants indiqués par les réveils?*

			
Il s'est écoulé . . . heures	Il s'est écoulé . . . minutes	Il s'est écoulé . . . minutes	Il s'est écoulé . h . . min

❹ *Pour lire un texte de lecture, Emma a mis 1min 30s, Lan 57s, Matthieu 1min 07s et Luc 2 min.*

- Qui a été le plus rapide ?
- Qui a été le moins rapide ?

❺ L'arbitre siffle le début du match de football à 20 heures. Il y a deux périodes de 45 minutes chacune et une pause de 15 minutes.

- *À quelle heure l'arbitre sifflera-t-il la fin du match ?*
- à la fin de la première période, il sera : . . . h. . . min
- à la fin de la pause, il sera : . . . h. . . min
- à la fin de la deuxième période, il sera : . . . h. . . min

❻ Il est 11h 59min 59s. La sortie est à midi.

- *Dans combien de temps la sonnerie va-t-elle retentir ?*
-

Prénom : _____