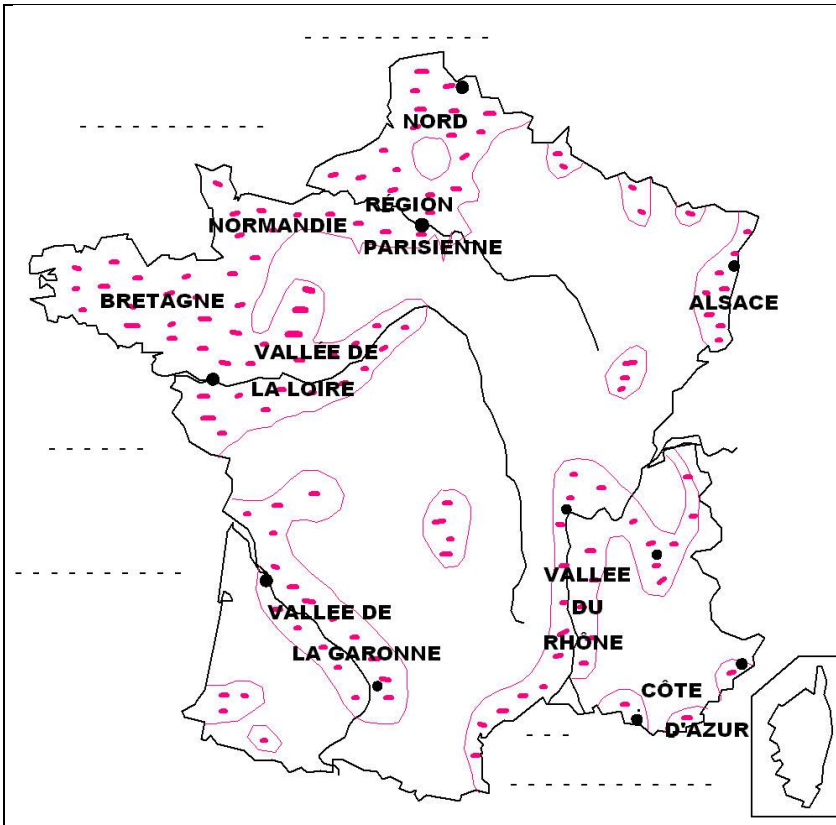


LA POPULATION FRANÇAISE



1 - Écris sur la carte les villes suivantes : Paris, Lille, Nice, Strasbourg, Nantes, Lyon, Grenoble, Toulouse, Marseille, Bordeaux.

2 - Écris les mers et les océans.

3 - Colorie les zones peuplées en jaune.

Zone peu peuplée.

Zone très peuplée.

4 - Écris les zones très peuplées :

.

.

.

.

.

.

.

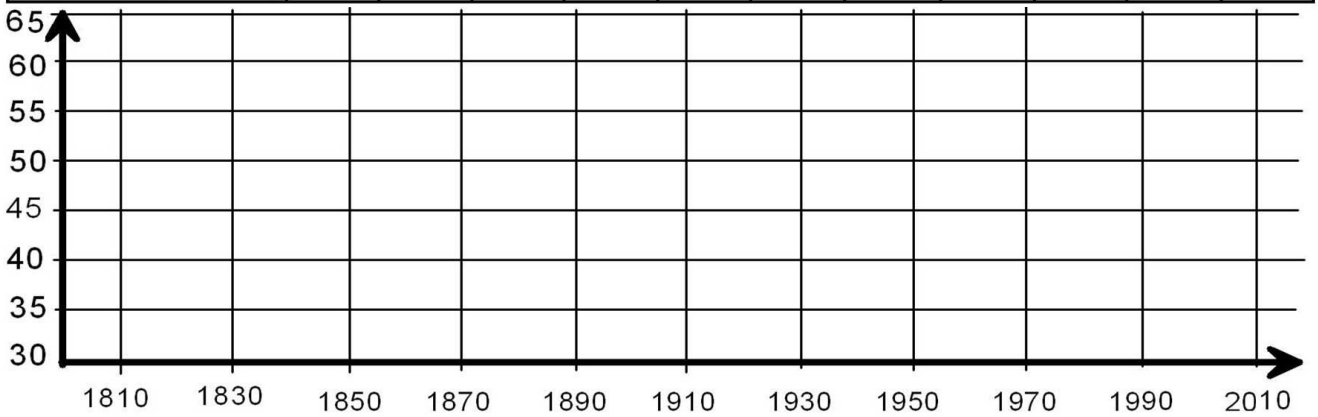
.

.

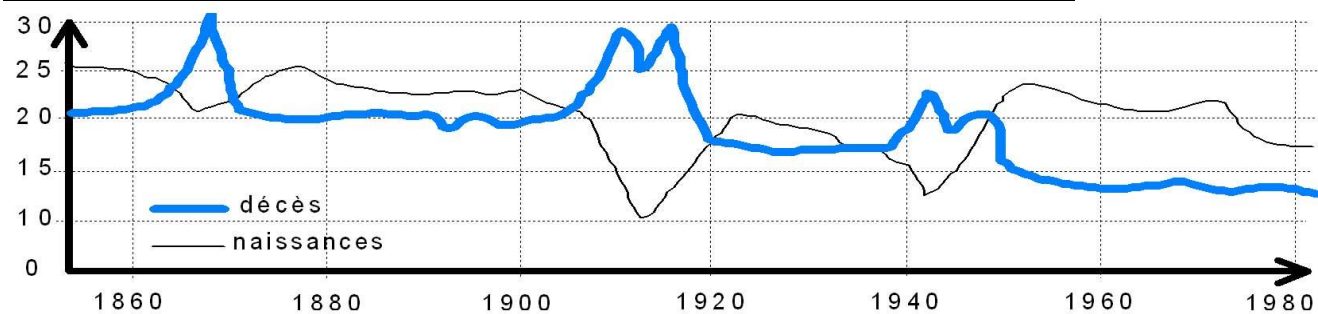
.

5 - Construis la courbe de l'évolution de la population française.

Dates	1810	1830	1850	1870	1890	1910	1930	1950	1970	1990	2010
Population(millions)	31	33	36	37	40	41	42	42	50	59	65

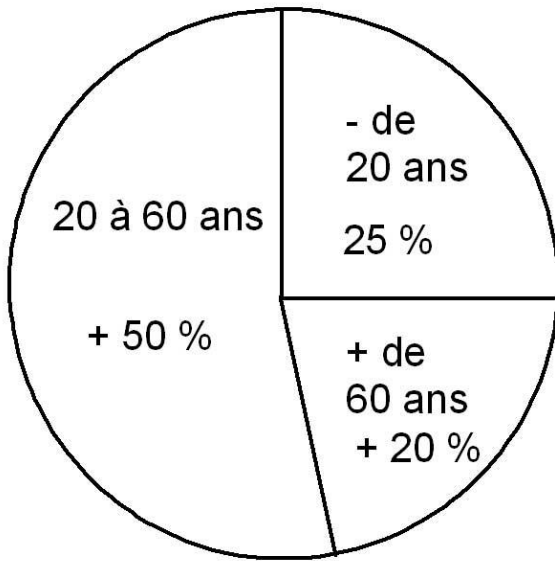


6 - Évolution de la natalité et de la mortalité (pour 1000 français).




- À quoi correspondent les périodes d'excédents de décès ?
 - À quoi est dû l'accroissement des excédents de naissances depuis 1950 ?
-

7 - Une population vieillissante : Les plus de 60 ans augmentent sans cesse et le nombre des moins de 20 ans diminue : la population française vieillit !



8 - Une population mal répartie : les urbains représentent + de 75 % de la population.



9 - Les étrangers en France: Classe en ordre décroissant (de 1 à 6).

Algériens	23%	Italiens	15%	Portugais	25%
Espagnols	13%	Marocains	11%	Tunisiens	5%

10 - Quelle est la population mondiale ?

11 - Quelle est la population de la ville où tu habites ?