

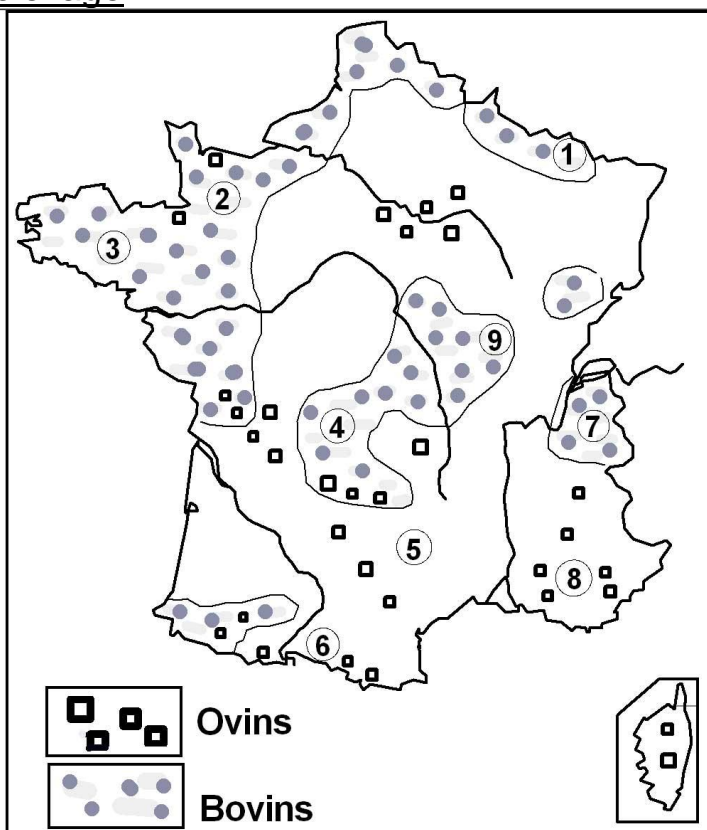
AGRICULTURE : L'ÉLEVAGE

1-Situe correctement ces régions d'élevage.





Charolais	Causses
Provence	Bretagne
Normandie	Savoie
Limousin	Lorraine
Pyrénées	

2-Indique ce qu'on élève :(x).

	bovins	ovins
Corse		
Savoie		
Limousin		
Lorraine		
Pyrénées		
Provence		
Charolais		
Causses		
Normandie		



3 - Pour chaque animal, écris ce qu'on tire de son élevage : viande, lait, fromage, cuir...

4 - Classe les viandes de la plus consommée à la moins consommée.

mouton (4 kg)	boeuf (25 kg)	porc (38 kg)
cheval (1,5 kg)	volaille (17 kg)	veau (6,5 kg)

5 – Variation de la consommation de viande par habitant en 1 siècle :

- 1898 : 20kg / habitants / an
- 1998 : 100kg / habitants / an

Conclusion : la consommation de viande a *augmenté* / *diminué*.

Calcule cette variation : .. kg / habitants / an soit x .

6 - Explique à l'aide du dictionnaire : bovin, ovin, porcin, aviculture.

- 7 - Recherche :
- Cherche tous les produits laitiers que tu connais.
 - Trouve 10 fromages français avec leur région de provenance.
 - Trouve 5 morceaux de viande du bœuf.

DOCS & CORRECTIONS

Élevage (B) ▶



Nord
↑
échelle commune
aux 4 cartes
0 200 km



	travail, viande, crin		viande, lait, cuir
	viande, lait, cuir		viande, oeufs, plumes

