

LES FRACTIONS

↳ Compétence 1 : Je sais écrire une fraction sous forme de la somme d'un entier et d'une fraction inférieure à 1.

↳ Consigne 1 : Observe l'exemple et effectue le même travail.

Exemple : $24/5 = 20/5 + 4/5 = 4 + 4/5$

$7/3 =$

$17/4 =$

$22/3 =$

$15/2 =$

$25/10 =$



↳ Compétence 2 : Je sais encadrer des fractions entre 2 entiers qui se suivent.

↳ Consigne 2 : Encadre les fractions entre 2 entiers naturels qui se suivent.


$. < 1/3 < . \quad . < 5/3 < . \quad . < 5/2 < . \quad . < 21/5 < . \quad . < 20/6 < .$

$. < 20/7 < . \quad . < 37/5 < . \quad . < 30/9 < . \quad . < 25/10 < . \quad . < 30/100 < .$



↳ Compétence 3 : Je sais situer une fraction décimale sur une droite graduée.

↳ Consigne 3 : Place les fractions suivantes.



a. $\frac{3}{10}$


b. $\frac{11}{10}$

c. $\frac{6}{10}$

d. $\frac{15}{10}$

e. $\frac{8}{10}$

↳ Consigne 3bis : Ecris les fractions sur la droite.



a. $\frac{25}{100}$

b. $\frac{7}{10}$

c. $\frac{105}{100}$

d. $\frac{4}{10}$

e. $\frac{95}{100}$

↳ Prénom :

↳ Date :

NOMBRES ET CALCULS : les fractions

	NA	PA	A	D
❶ Je sais écrire une fraction sous forme de la somme d'un entier et d'une fraction inférieure à 1.				
❷ Je sais encadrer des fractions entre 2 entiers qui se suivent.				
❸ Je sais situer une fraction décimale sur une droite graduée.				

CORRECTION

↳ Compétence 1 : Je sais écrire une fraction sous forme de la somme d'un entier et d'une fraction inférieure à 1.

↳ Consigne 1 : Observe l'exemple et effectue le même travail.

Exemple : $24/5 = 20/5 + 4/5 = 4 + 4/5$

$7/3 = 6/3 + 1/3 = 2 + 1/3$

$17/4 = 16/4 + 1/4 = 4 + 1/4$

$22/3 = 21/3 + 1/3 = 7 + 1/3$

$15/2 = 14/2 + 1/2 = 7 + 1/2$

$25/10 = 20/10 + 5/10 = 2 + 5/10$

~~~~~

↳ Compétence 2 : Je sais encadrer des fractions entre 2 entiers qui se suivent.

↳ Consigne 2 : Encadre les fractions entre 2 entiers naturels qui se suivent.

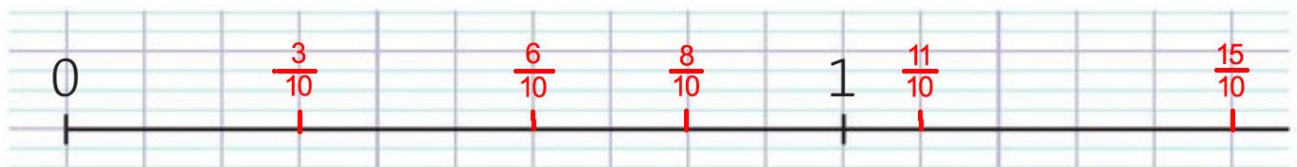
$0 < 1/3 < 1$      $1 < 5/3 < 2$      $2 < 5/2 < 3$      $4 < 21/5 < 5$      $3 < 20/6 < 4$

$2 < 20/7 < 3$      $7 < 37/5 < 8$      $3 < 30/9 < 4$      $2 < 25/10 < 3$      $0 < 30/100 < 1$

~~~~~

↳ Compétence 3 : Je sais situer une fraction décimale sur une droite graduée.

↳ Consigne 3 : Place les fractions suivantes.



a. $\frac{3}{10}$

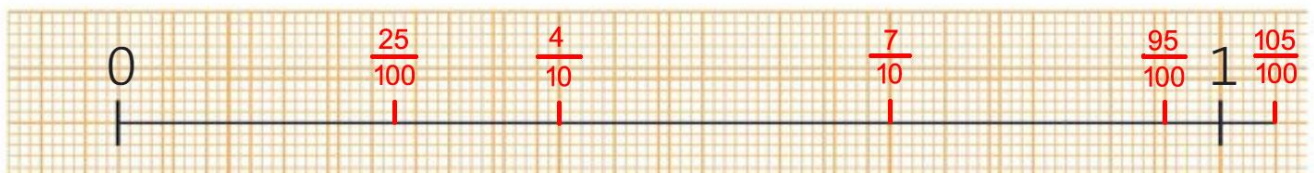
b. $\frac{11}{10}$

c. $\frac{6}{10}$

d. $\frac{15}{10}$

e. $\frac{8}{10}$

↳ Consigne 3bis : Ecris les fractions sur la droite.



a. $\frac{25}{100}$

b. $\frac{7}{10}$

c. $\frac{105}{100}$

d. $\frac{4}{10}$

e. $\frac{95}{100}$