


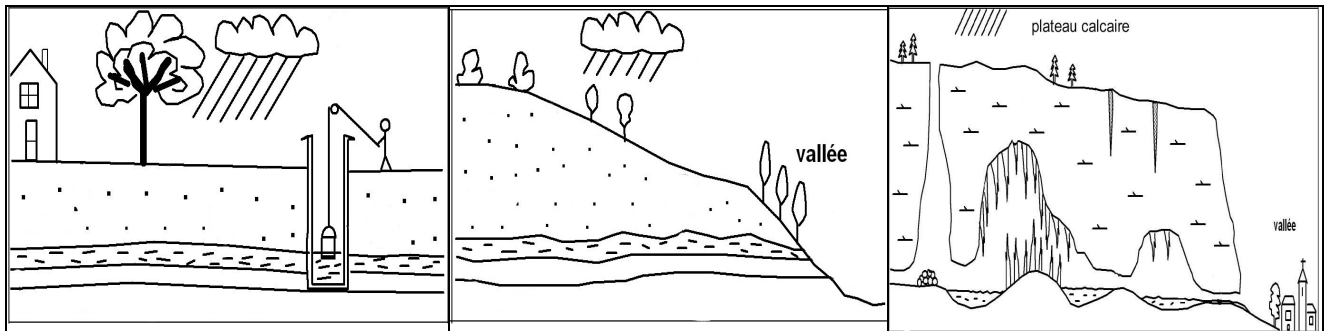
L'EAU

⇒ Le cycle de l'eau.



- ❶ Trace avec des flèches le cycle de l'eau sur ce schéma.
- ❷ Colorie la terre en marron et l'eau en bleu.
- ❸ Écris sur le schéma : pluie – neige – formation de nuages – évaporation – cours d'eau

⇒ L'eau s'infiltr.



- ❶ Sur ces 3 schémas, colorie en jaune les terrains perméables et en marron les terrains imperméables.
- ❷ Dessine avec des flèches, la direction de l'eau dans la roche.

⇒ D'où vient l'eau ? Tu relies.

- | | | |
|-------|----------------------|----------------------|
| 97% • | • eau douce • | • rivières |
| 2% • | • eau salée • | • mers et océans |
| 1% • | • eau des glaciers • | • lacs |
| | | • pluie et neige |
| | | • nappes phréatiques |

⇒ À quoi nous sert l'eau ? Trouve 5 usages domestiques de l'eau.

.....

.....

⇒ L'eau est traitée.

Quelles sont les 3 opérations que doit subir l'eau de rivière avant d'être potable ?

.....

Avec quoi désinfecte t-on l'eau ? (2)

.....

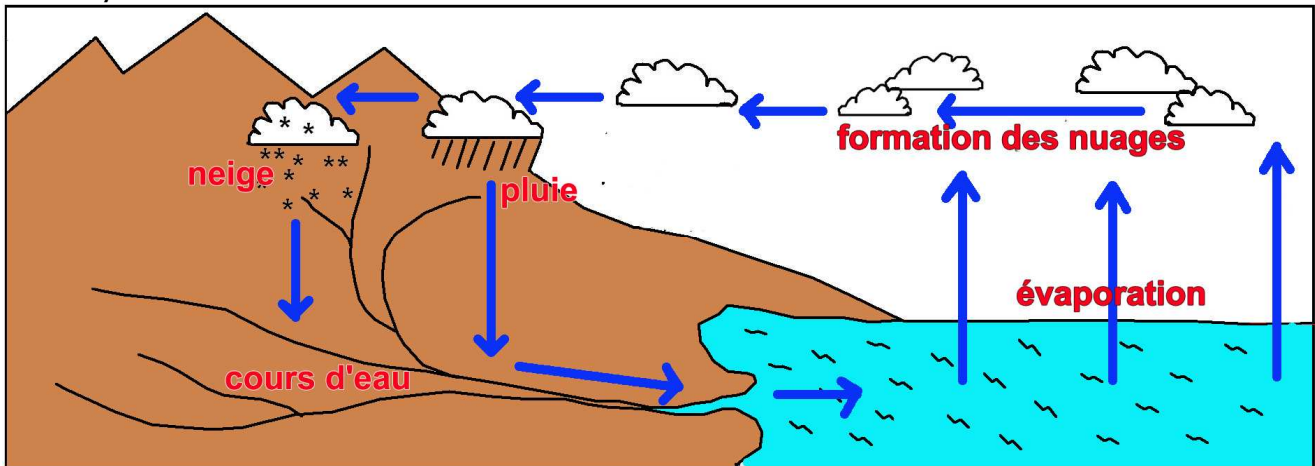
Prénom : _____

A EA NA

Réussite : ... %

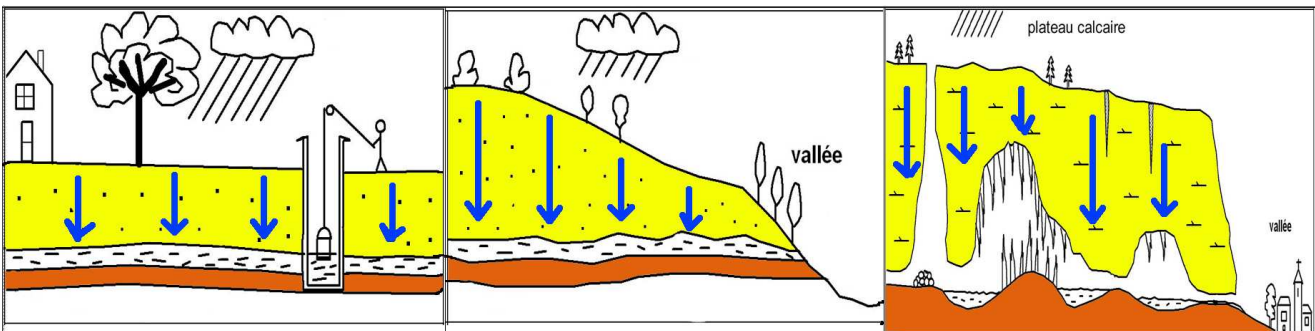
L'EAU

⇒ Le cycle de l'eau.




- ❶ Trace avec des flèches le cycle de l'eau sur ce schéma.
- ❷ Colorie la terre en marron et l'eau en bleu.
- ❸ Écris sur le schéma : pluie – neige – formation de nuages – évaporation – cours d'eau

⇒ L'eau s'infiltr.



- ❶ Sur ces 3 schémas, colorie en jaune les terrains perméables et en marron les terrains imperméables.
- ❷ Dessine avec des flèches, la direction de l'eau dans la roche.

⇒ D'où vient l'eau ? Tu relies.



⇒ À quoi nous sert l'eau ? Trouve 5 usages domestiques de l'eau.

un bain - une douche - une chasse d'eau - un brossage de dents - un lavage de linge en machine - un lavage de la vaisselle à la main - la préparation d'un repas - un lavage de voiture - la boisson

⇒ L'eau est traitée.

Quelles sont les 3 opérations que doit subir l'eau de rivière avant d'être potable ?

elle doit être décantée, filtrée et stérilisée

Avec quoi désinfecte t-on l'eau ? (2) on la désinfecte avec de l'ozone et du chlore

Comment distribue t-on l'eau dans les maisons ? des châteaux d'eau et des canalisations

Prénom : _____

A EA NA

Réussite : ... %